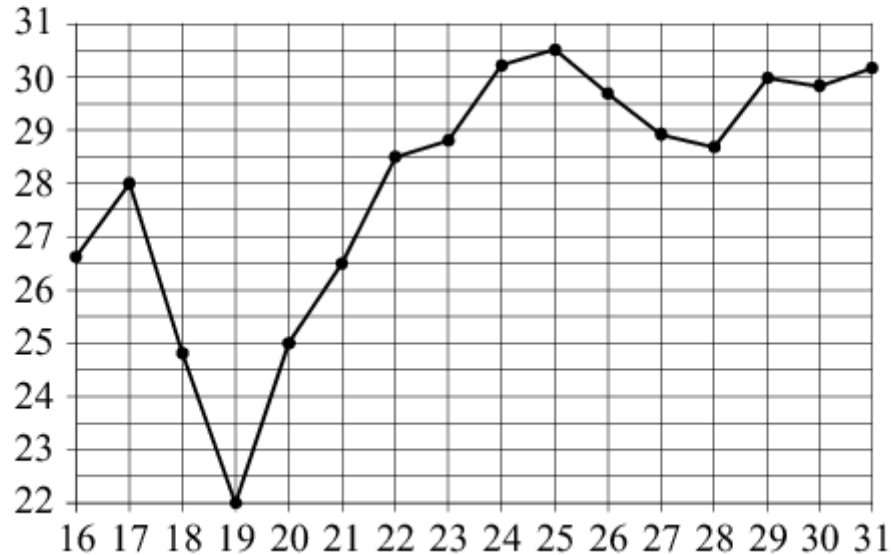


Тренировочные упражнения задания 4

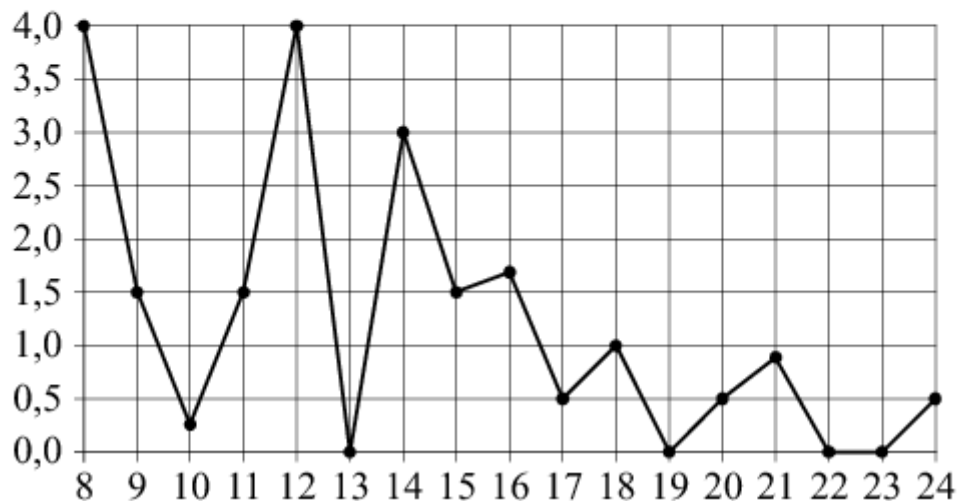
1

На рисунке жирными точками показана среднесуточная температура воздуха в Нижнем Новгороде каждый день с 16 по 31 июля 2010 года. По горизонтали указываются числа месяца, по вертикали — температура в градусах Цельсия. Для наглядности жирные точки соединены линиями. Определите по рисунку наименьшую среднесуточную температуру за данный период. Ответ дайте в градусах Цельсия.



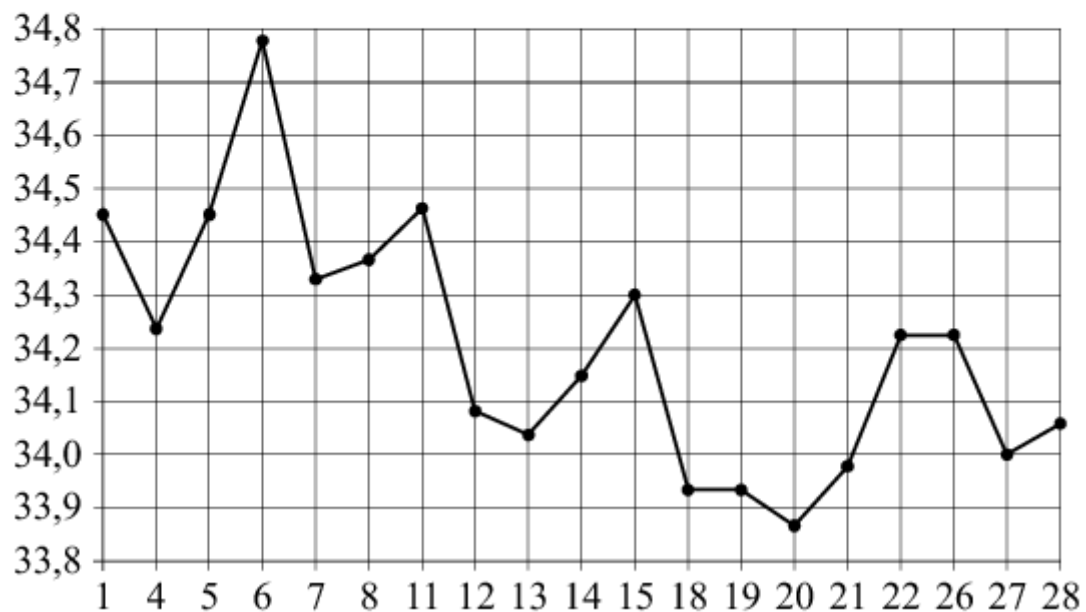
2

На рисунке жирными точками показано суточное количество осадков, выпавших в Томске с 8 по 24 января 2005 года. По горизонтали указываются числа месяца, по вертикали — количество осадков, выпавших в соответствующий день, в миллиметрах. Для наглядности жирные точки на рисунке соединены линией. Определите по рисунку наибольшее суточное количество осадков за данный период. Ответ дайте в миллиметрах.



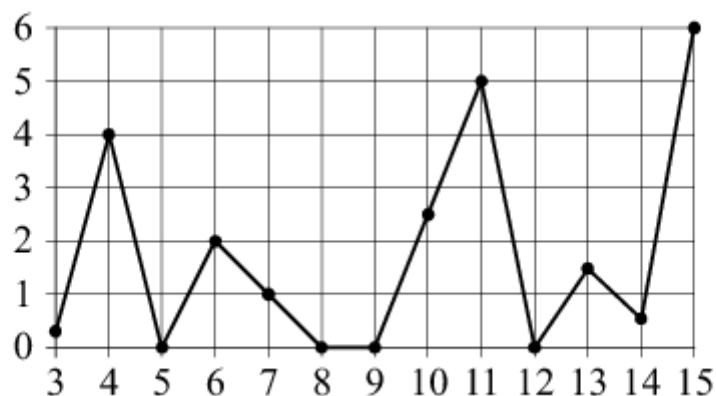
3

На рисунке жирными точками показан курс евро, установленный Центробанком РФ, во все рабочие дни с 1 февраля по 28 февраля 2003 года. По горизонтали указываются числа месяца, по вертикали — цена евро в рублях. Для наглядности жирные точки на рисунке соединены линиями. Определите по рисунку, какого числа курс евро был наименьшим за указанный период.



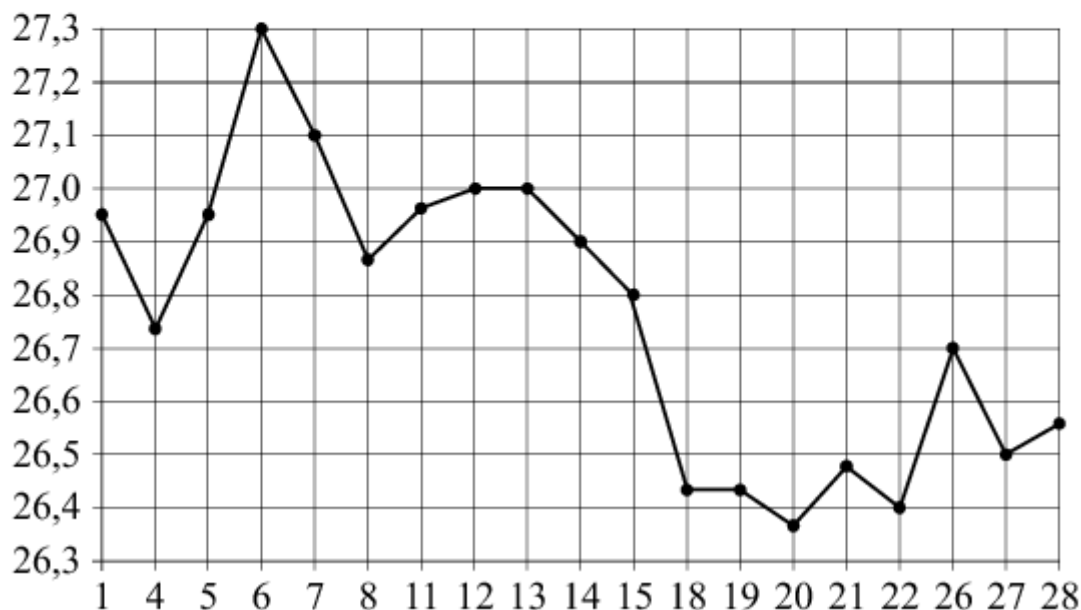
4

На рисунке жирными точками показано суточное количество осадков, выпавших в Казани с 3 по 15 февраля 1909 года. По горизонтали указываются числа месяца, по вертикали — количество осадков, выпавших в соответствующий день, в миллиметрах. Для наглядности жирные точки на рисунке соединены линиями. Определите по рисунку, какого числа выпало наибольшее количество осадков за данный период.



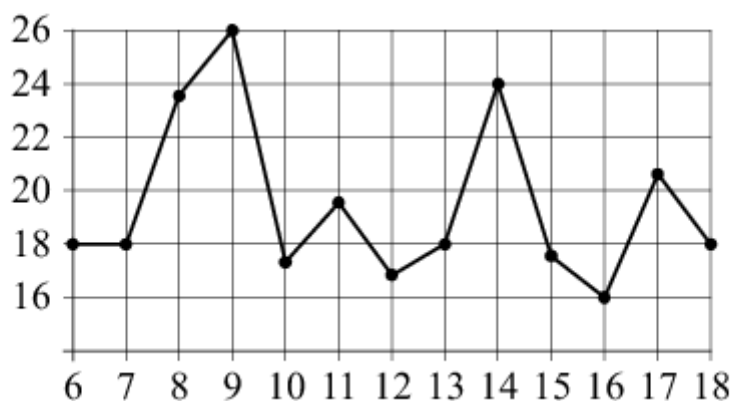
5

На рисунке жирными точками показан курс евро, установленный Центробанком РФ, во все рабочие дни с 1 по 28 сентября 2001 года. По горизонтали указываются числа месяца, по вертикали — цена евро в рублях. Для наглядности жирные точки на рисунке соединены линиями. Определите по рисунку наибольший курс евро в рублях в период с 19 по 26 сентября.



6

На рисунке жирными точками показана среднесуточная температура воздуха в Бресте каждый день с 6 по 18 июля 1981 года. По горизонтали указываются числа месяца, по вертикали — температура в градусах Цельсия. Для наглядности жирные точки соединены линиями. Определите по рисунку наименьшую среднесуточную температуру в период с 6 по 16 июля. Ответ дайте в градусах Цельсия.



7

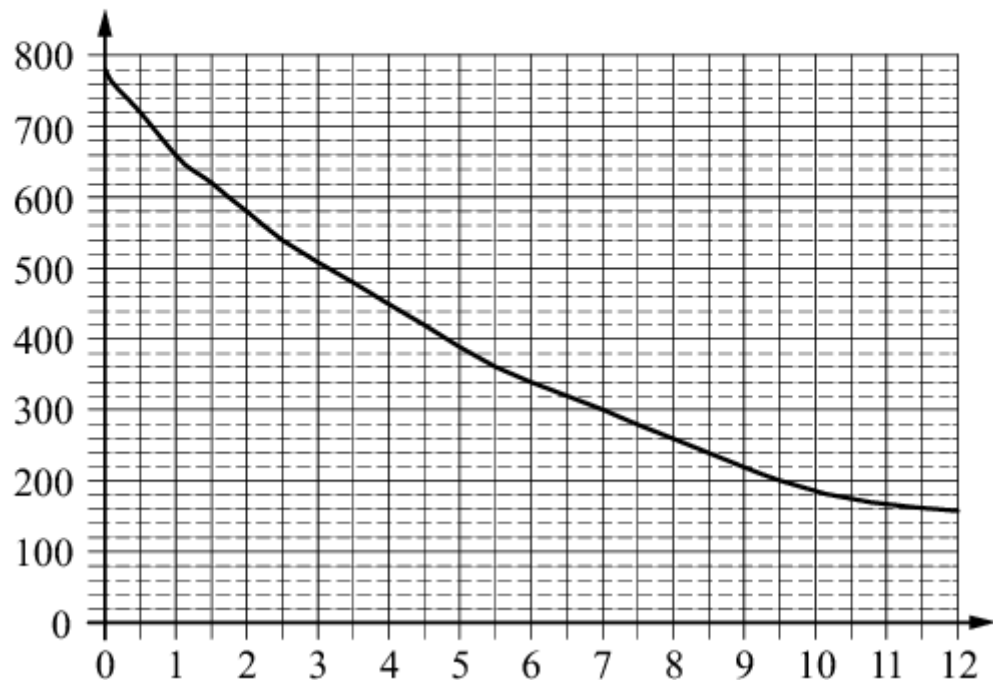
В таблице приведены размеры штрафов за превышение максимальной разрешённой скорости, зафиксированное с помощью средств автоматической фиксации, установленных на территории России с 1 сентября 2013 года.

Превышение скорости, км/ч	21—40	41—60	61—80	81 и более
Размер штрафа, руб.	500	1000	2000	5000

Определите с помощью таблицы, какой штраф должен заплатить владелец автомобиля, зафиксированная скорость которого составила 90 км/ч на участке дороги с максимальной разрешённой скоростью 40 км/ч. Ответ дайте в рублях.

8

На графике изображена зависимость атмосферного давления (в миллиметрах ртутного столба) от высоты над уровнем моря (в километрах). Определите по графику, на какой высоте (в километрах) летит воздушный шар, если барометр, находящийся в корзине шара, показывает давление 620 миллиметров ртутного столба?



9

В таблице представлены налоговые ставки на автомобили в Москве с 1 января 2013 года.

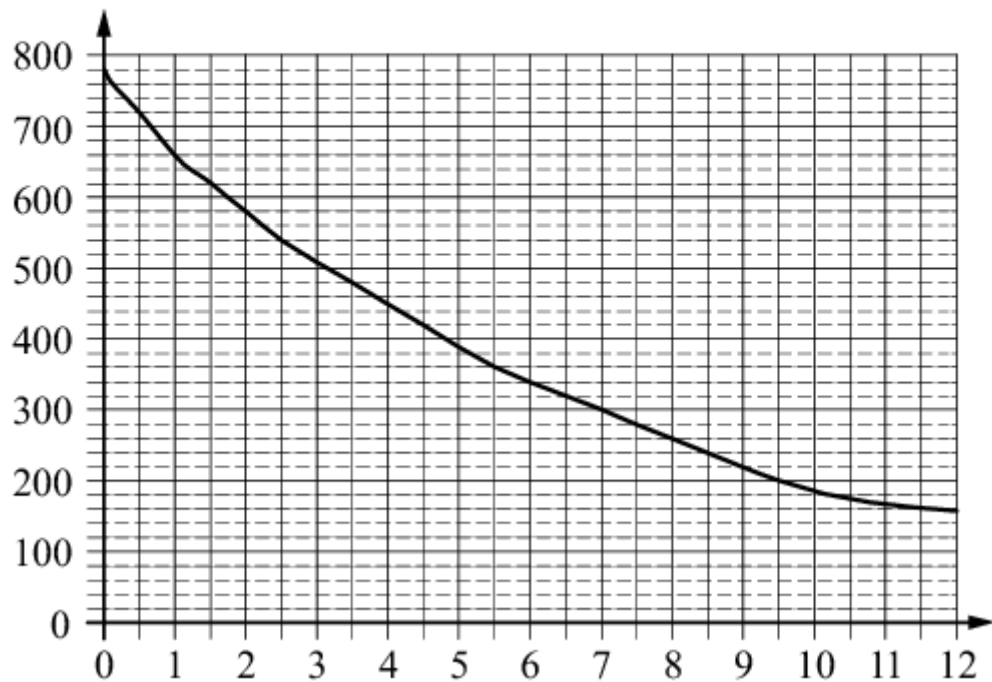
Мощность автомобиля (в л. с.*)	Налоговая ставка (руб. за 1 л. с.* в год)
не более 70	0
71–100	12
101–125	25
126–150	35
151–175	45
176–200	50
201–225	65
226–250	75
свыше 250	150

* л. с. — лошадиная сила

Какова налоговая ставка (в рублях за 1 л. с.) на автомобиль мощностью 219 л. с.?

1
0

На графике изображена зависимость атмосферного давления (в миллиметрах ртутного столба) от высоты над уровнем моря (в километрах). Определите по графику, чему равно атмосферное давление на высоте 6 км. Ответ дайте в миллиметрах ртутного столба.



1
1

В нескольких эстафетах, которые проводились в школе, команды показали следующие результаты:

Команда	I эстафета, баллы	II эстафета, баллы	III эстафета, баллы
«Непобедимые»	2	1	1
«Прорыв»	3	4	2
«Чемпионы»	1	2	4
«Тайфун»	4	3	3

При подведении итогов для каждой команды баллы по всем эстафетам суммируются. Побеждает команда, набравшая наибольшее количество баллов. Какое итоговое место заняла команда «Чемпионы»?

1
2

В таблице показано распределение медалей на зимних Олимпийских играх в Сочи среди стран, занявших первые 10 мест по количеству золотых медалей.

Место	Страна	Медали			
		Золотые	Серебряные	Бронзовые	Всего
1	Россия	13	11	9	33
2	Норвегия	11	5	10	26
3	Канада	10	10	5	25
4	США	9	7	12	28
5	Нидерланды	8	7	9	24
6	Германия	8	6	5	19
7	Швейцария	6	3	2	11
8	Белоруссия	5	0	1	6
9	Австрия	4	8	5	17
10	Франция	4	4	7	15

Определите с помощью таблицы, сколько серебряных медалей у страны, занявшей второе место по числу золотых медалей.

1
3

В соревнованиях по метанию молота участники показали следующие результаты:

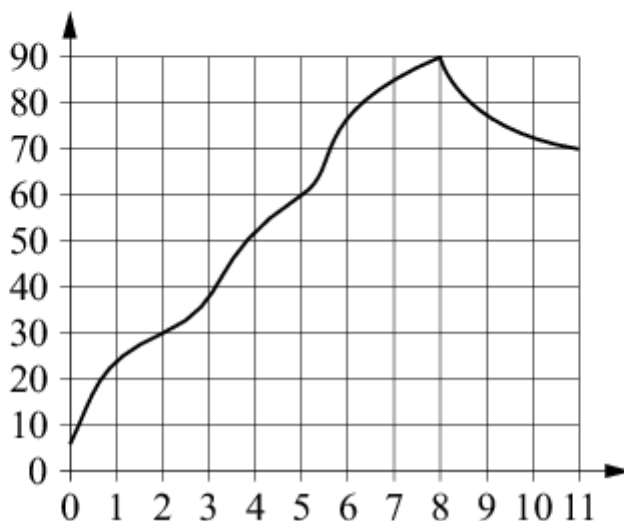
Спортсмен	Результат попытки, м					
	I	II	III	IV	V	VI
Лаптев	55,5	55	54	53	54,5	55,5
Монакин	52	51,5	53,5	53	54	54,5
Таль	49,5	49	50,5	51	51	52
Овсов	51	52	51	50,5	52,5	52

Места распределяются по результатам лучшей попытки каждого спортсмена: чем дальше он метнул молот, тем лучше.

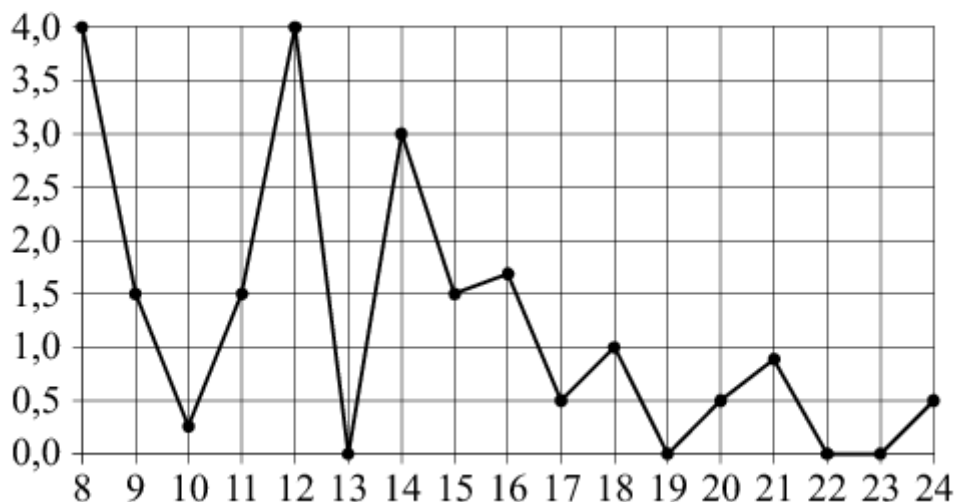
Каков результат лучшей попытки (в метрах) спортсмена, занявшего четвёртое место?

1
4

На графике показано изменение температуры в зависимости от времени в процессе разогрева двигателя легкового автомобиля при температуре окружающего воздуха 10°C . На оси абсцисс откладывается время в минутах, прошедшее от запуска двигателя, на оси ординат — температура двигателя в градусах Цельсия. Когда температура достигает определённого значения, включается вентилятор, охлаждающий двигатель, и температура начинает понижаться. Определите по графику, сколько минут прошло от момента запуска двигателя до включения вентилятора?

1
5

На рисунке жирными точками показано суточное количество осадков, выпадавших в Томске с 8 по 24 января 2005 года. По горизонтали указываются числа месяца, по вертикали — количество осадков, выпавших в соответствующий день, в миллиметрах. Для наглядности жирные точки на рисунке соединены линиями. Определите по рисунку, какого числа за данный период впервые выпало ровно $1,5$ миллиметра осадков.



1
6

В соревнованиях по метанию молота участники показали следующие результаты:

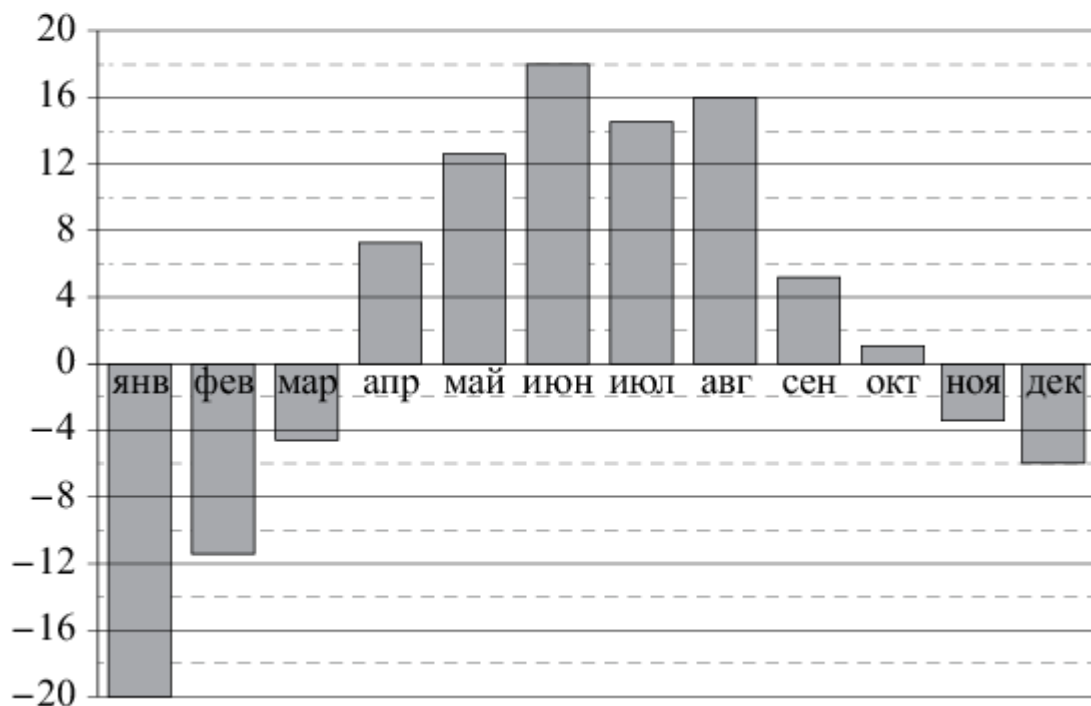
Спортсмен	Результат попытки, м					
	I	II	III	IV	V	VI
Витков	55,5	55	54	53	54,5	55,5
Птицын	52	51,5	53,5	53	54	54,5
Коваленко	49,5	49	50,5	51	51	52
Арнюк	51	52	51	50,5	52,5	52

Места распределяются по результатам лучшей попытки каждого спортсмена: чем дальше он метнул молот, тем лучше.

Какое место занял спортсмен Арнюк?

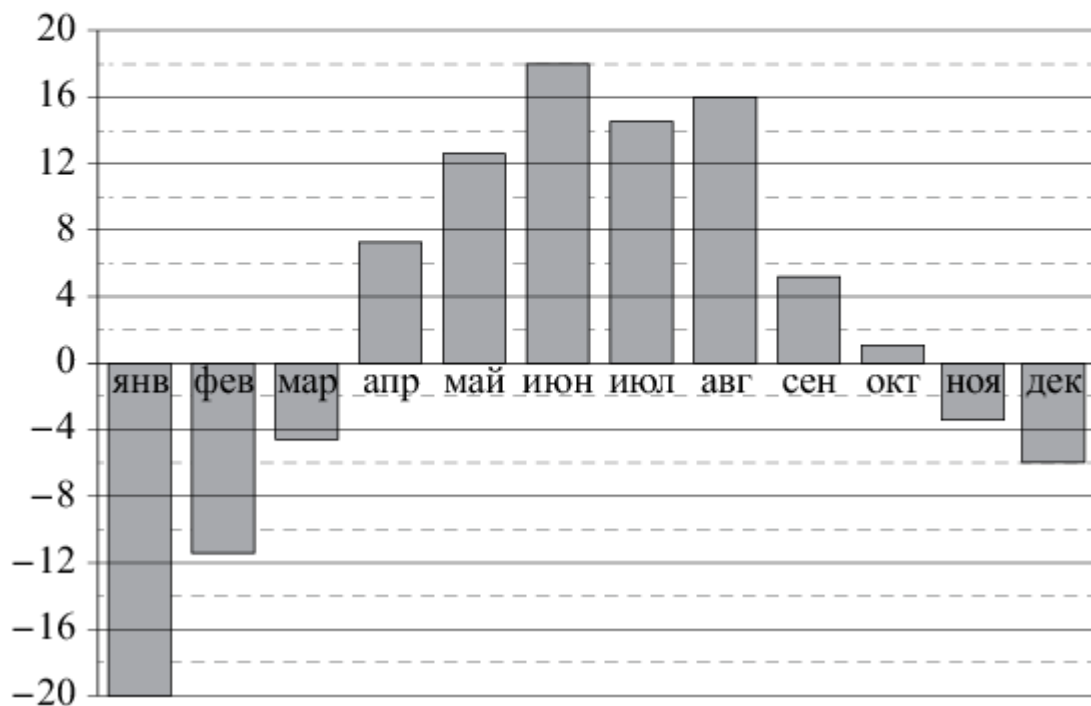
1
7

На диаграмме показана среднемесячная температура воздуха в Екатеринбурге (Свердловске) за каждый месяц 1973 года. По горизонтали указываются месяцы, по вертикали — температура в градусах Цельсия. Определите по диаграмме наибольшую среднемесячную температуру 1973 году. Ответ дайте в градусах Цельсия.



1
8

На диаграмме показана среднемесячная температура воздуха в Екатеринбурге (Свердловске) за каждый месяц 1973 года. По горизонтали указываются месяцы, по вертикали — температура в градусах Цельсия. Определите по диаграмме наибольшую среднемесячную температуру во второй половине 1973 года. Ответ дайте в градусах Цельсия.

1
9

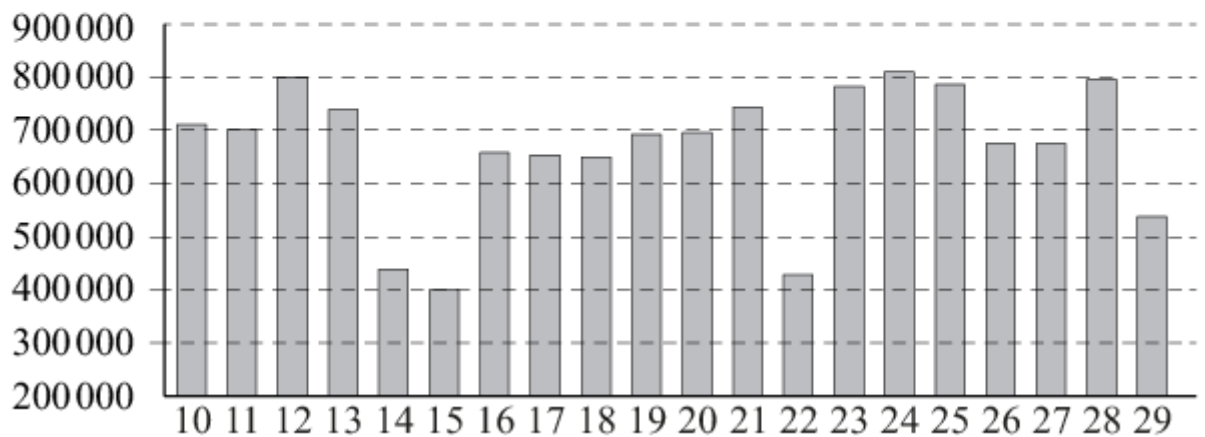
На игре КВН судьи поставили следующие оценки командам за конкурсы:

Команда	Баллы за конкурс «Приветствие»	Баллы за конкурс «СТЭМ»	Баллы за музыкальный конкурс
«АТОМ»	28	22	25
«Шумы»	29	20	23
«Топчан»	26	21	27
«Лёлек и Болек»	24	24	29

Для каждой команды баллы по всем конкурсам суммируются. Победителем считается команда, набравшая в сумме наибольшее количество баллов. Сколько в сумме баллов у команды-победителя?

2
0

На диаграмме показано количество посетителей сайта РИА «Новости» во все дни с 10 по 29 ноября 2009 года. По горизонтали указываются дни месяца, по вертикали — количество посетителей сайта за данный день. Определите по диаграмме, какого числа количество посетителей сайта РИА «Новости» было наименьшим за указанный период.



2
1

На рисунке изображён график значений атмосферного давления в некотором городе за три дня. По горизонтали указаны дни недели, по вертикали — значения атмосферного давления в миллиметрах ртутного столба. Определите по рисунку наименьшее значение атмосферного давления во вторник (в миллиметрах ртутного столба).



2
2

На рисунке изображён график значений атмосферного давления в некотором городе за три дня. По горизонтали указаны дни недели и время, по вертикали — значения атмосферного давления в миллиметрах ртутного столба. Найдите значение атмосферного давления во вторник в 6 часов утра. Ответ дайте в миллиметрах ртутного столба.

2
3

На игре КВН судьи поставили следующие оценки командам за конкурсы:

Команда	Баллы за конкурс «Приветствие»	Баллы за конкурс «СТЭМ»	Баллы за музыкальный конкурс
«АТОМ»	28	22	25
«Шумы»	29	20	23
«Топчан»	26	21	27
«Лёлек и Болек»	24	24	29

Для каждой команды баллы по всем конкурсам суммируются. Победителем считается команда, набравшая в сумме наибольшее количество баллов. Какое место заняла команда «Шумы»?

2
4

В таблице показано расписание пригородных электропоездов по направлению Москва Киевская – Малоярославец – Калуга.

Номер электрички	Москва Киевская	Малоярославец	Калуга
1	14:05	16:02	17:11
2	15:07	17:10	
3	16:21	18:16	19:27
4	17:05	19:13	
5	17:43	19:53	
6	18:12	20:00	20:55
7	18:24	20:30	21:42

Владислав пришёл на станцию Москва Киевская в 16:42 и хочет уехать в Калугу на ближайшей электричке. В ответе укажите номер этой электрички.